

Код/шифр участника 8-Г-7

Всероссийская олимпиада школьников по географии
муниципальный этап 2022-2023 учебный год
8 класс

Бланк ответов учащегося для заданий тестового тура

№	Правильный ответ
0	1. В
3	2. 1-3; 2-м; 3-Г; 4-В; 5-Б; 6-Г; 7-А; 8-Б.
0	3. В А
1	4. Г
1	5. Б
1	6. В
0	7. В Б
1	8. Б
2	9. 1-В; 2-Г; 3-Б; 4-А.
1	10. В, Г, А, Б
0	11. В
1	12. Б
1	13. В
0	14. Г
1	15. А
1	16. Г
1	17. В
1	18. Г
1	19. В
1	20. Г
1	21. Г
1	22. А-3; Б-4, В-2; Г-1.
1	23. В
1	24. Г
0	25. А

Теоретический тур

Задача № 1

№	Вопрос	Ответ
1	1. Как называется описанный материк? Как переводится его название?	Австралия Африка Механическая.
0 0,5	2. Почему на материк наблюдаются максимальные среднегодовые температуры?	Близко к экватору
1	3. Кто и когда из европейских мореплавателей впервые приплыл к его берегам? Представитель какой страны?	Португальские; в 1487 году.
1	4. Расстояние с севера на юг составляет	73°, 7500 км
1	5. Наибольшее расстояние с запада на восток составляет	69°, 7300 км
0 2	6. На карте изображены полуострова и острова, заливы и проливы	На контурной карте приложения
0	7. 1 тектоническая особенность	Отсутствие литосферных плит.
0	8. 2 природная особенность	
0	9. 3 политическая особенность	

Код/шифр участника 8-1-7

Задача № 2

№	Вопрос	Ответ
1	1. О каком острове идет речь?	о. Ява
1	2. В составе какого архипелага находится?	Малайский архипелаг
1	3. Назовите его крупнейший город	Джакарта
0	4. Назовите три главных народов	Китайцы, индонезийцы
0,5	5. Назовите бывшую европейскую метрополию.	Голландия
1	6. В состав какого государства входит остров?	Индонезия
1	7. В какой природной зоне находится остров?	Влажные экваториальные леса
0,5	8. Что является традиционной основой хозяйства большинства жителей острова?	Сельское хозяйство: земледелие.
0	9. Подпишите название острова, города и страны, в состав которой входит остров.	На контурной карте приложения


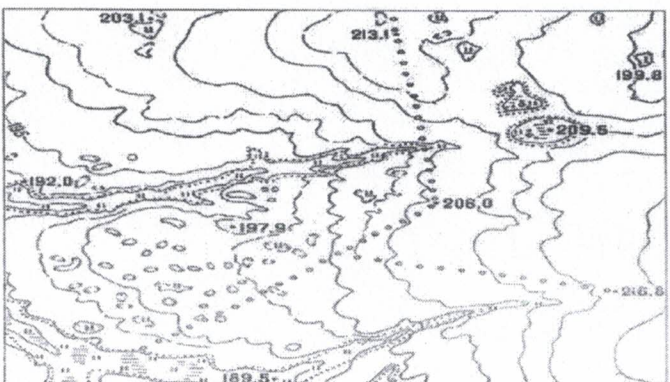
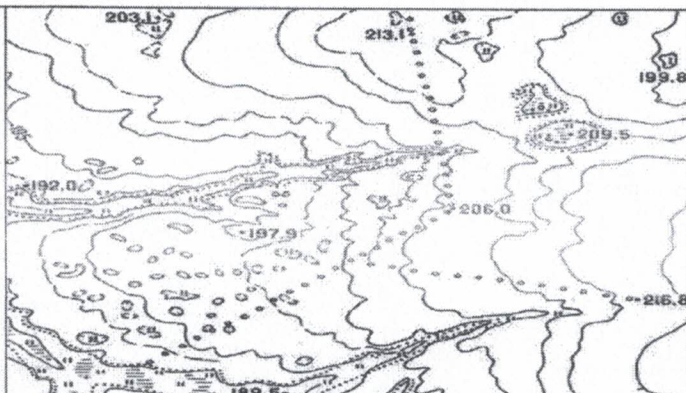
68

Задача № 3

Космический снимок	Номер условного знака /название
1 0 1 0 1 0 1 1 1	А 2 / Центральная зона
	Б 3
	В 5 Редколесие
	Г 7 межконтинентальная станция

58

Задача № 4

	<p>Ответ</p>
1	
2	<p>Общее</p>
	
	
3	<p>Процессы</p> <hr/> <hr/> <hr/> <hr/> <hr/>
4	

*Перепроверил:
Осипова О.И. 00сн:*

*0
Проверил: Служ. Стрельников С.В.
Умова: 40,58
58,0%*

1907

1907

1907

1907



1907
1907
1907

1907
1907

8-Г-7

8-Г-7

ФИЗИЧЕСКАЯ КАРТА МИРА

ФИЗИЧЕСКАЯ КАРТА МИРА

