

18

Шифр участника ТТТ-8-11

ВСЕРОССИЙСКАЯ ОЛИМПИАДА ШКОЛЬНИКОВ ПО ТЕХНОЛОГИИ

**МУНИЦИПАЛЬНЫЙ ЭТАП, 2022-2023 учебный год
ТЕОРЕТИЧЕСКИЙ ТУР**

8 КЛАСС

Профиль «Техника, технологии и техническое творчество»

Уважаемый участник олимпиады!

Вам на теоретическом туре предложено 21 задания, из которых 5– общие задания, 15 – специальные задания, 1 – кейс задание. Задача участника - внимательно ознакомиться с предложенными вопросами и выполнить их в строгом соответствии с формулировкой. Творческое задание №21 (кейс задание) оценивается в 5 баллов. Всего за теоретический тур максимальное количество баллов, которое может набрать участник, составляет 25 баллов. Длительность 1-го тура (теоретического) составляет 90 минут.

Общая часть




1. Как называется технология, о которой говорится в тексте

Впервые эта технология появилась на свет 40 лет назад и называлась “стереолитография”. Эта технология открыла потрясающие возможности для создания различных моделей в прототипировании, стоматологии, мелкосерийном производстве миниатюр, скульптур, макетов и многого другого.

Ответ 3D-принтерование

**2. Что означает такой знак на упаковке лампы?
Выберите в таблице номер лампы и назовите лампу, на упаковке которой должен быть такой знак. Как называется такая лампа.**



		
1	2	3


Ответ:
Знак на упаковке означает, что предмет в упаковке нельзя выбрасывать и нужно переработать.
№ лампы 3, название лампа накаливания

3. Отметьте знаком + правильный ответ

В выхлопных газах автомобилей содержится оксид углерода, который раздражающе действует на кожу и слизистые оболочки. Оксид углерода при вдыхании связывается с гемоглобином крови, вытесняя из нее кислород, в результате чего наступает кислородное голодание, которое может привести к летальному исходу. Какое название это вещество еще имеет?

- 1 - - альдегид
- 2 - - газообразный хлор
- 3 - - угарный газ
- 4 - - фосген

4. Один из самых интересных, долгожданных, веселых и самых «вкусных» праздников в году является пограничным между зимой и весной, сохраняет черты элементов славянской мифологии, которая сформировалась до крещения Руси.



На каком традиционном русском празднике главным блюдом являются блины

Ответ: Масленица

5. Решите задачу, записав решение и ответ. Каждый день в походе чай пьют 3 раза в день. Поход длится 2 дня. Чай продаётся в пачках по 100 пакетиков. Сколько пачек чая нужно купить на весь поход для группы из 35 человек?

Решение

1) $3 \cdot 35 = 105$ (пакетиков) - вычитет группа за 1 день,
2) $105 \cdot 2 = 210$ (пакетиков) - вычитет группа за 2 дня,
3) так как чай продается в пачках по 100 пакетиков, то
нужно купить 3 пачки (2 будет мало ($2 \cdot 100 = 200 < 210$), а 4 много
($4 \cdot 100 = 400 > 300$) ($3 \cdot 100 = 300$))


Ответ:

3 пачки чая

6. Как называется устройство, преобразующее механическую энергию в электрическую?

- а) электродвигатель;
- б) нагрузка;
- в) генератор.

7. Назовите технологическую операцию, которую можно осуществить представленными на изображении инструментами при их использовании совместно с деревянной киянкой.



Ответ: *откручивание.*

8. Что обозначает надпись M24x1,5?

- а) резьба метровая, наружный диаметр 24 мм, внутренний диаметр 1,5 мм, правая;
- б) резьба метрическая, номинальный наружный диаметр 24 мм, шаг резьбы 1,5 мм, правая;
- в) резьба миллиметровая, внутренний диаметр 24 мм, шаг резьбы 1,5 мм, левая.

9. Частоту вращения заготовки на токарном станке позволяет изменять:

- а) задняя бабка;
- б) суппорт;
- в) коробка подач;
- г) коробка скоростей.

10. Что представляет собой нагель?

- а) квадратный деревянный стержень;
- б) цилиндрический деревянный стержень;
- в) гвоздь без шляпки;
- г) специальный гвоздь

11. Нанесение тонкого слоя припоя на зачищенный провод операция:

- а) паяние;
- б) лужение;
- в) соединение.

Шифр участника ТТТ-8-11**12. Как правильно выбрать диаметр стержня или отверстия под резьбу?**

- а) должны быть равны внутреннему диаметру резьбы;
- б) должны быть равны наружному диаметру резьбы;
- в) немного меньше наружного диаметра резьбы (определить по таблице в справочнике).

13. Прочность древесины — это...

- а) способность сопротивляться внедрению других тел;
- б) способность выдерживать нагрузки, не разрушаясь;
- в) способность восстанавливать первоначальную форму после прекращения действия нагрузки.

14. Какой прибор предназначен для измерения напряжения в электрической цепи?

- а) Амперметр;
- б) Ваттметр;
- в) Вольтметр;
- г) Омметр.

15. Для чернового строгания древесины используют:

- а) шпунтубель;
- б) фуганок;
- в) шерхебель;
- г) калевка.

16. Как называется устройство, преобразующее механическую энергию в электрическую?

- а) электродвигатель;
- б) нагрузка;
- в) генератор.

17. Сила тока в электрической цепи 2 А при напряжении на его концах 5 В. Найдите сопротивление проводника.

- а) 10 Ом;
- б) 0,4 Ом;
- в) 2,5 Ом;
- г) 4 Ом;
- д) 0,2 Ом.

18. Какой размер называется номинальным?

- а) общий для соединяемого вала и отверстия размер;
- б) наибольший размер, по которому можно изготовить деталь;
- в) размер, равный алгебраической разности между допустимыми размерами.

Шифр участника ТТТ-8-11

19. Какие части относятся только к фрезерному станку:

- а) передняя бабка;
- б) задняя бабка;
- в) консоль.

20. Сталь — это сплав:

- а) железа с азотом;
- б) железа с кремнием;
- в) железа с чугуном;
- г) железа с углеродом.

21. Творческое задание

Сконструируйте брелок для ключей из дерева (Рис.1.)

Технические условия:

1. Составьте эскиз с обозначением размеров. Укажите материал изготовления изделия. Обоснуйте выбор. – 2 балла.
2. Укажите способ изготовления изделия – 1 балл
3. Укажите вид отделки готового изделия на стадии финишной обработки. – 2 балла.

Примечание. Учитывается вид финишной отделки и дизайн готового изделия.




Рис.1 Пример брелока для ключей из дерева.

